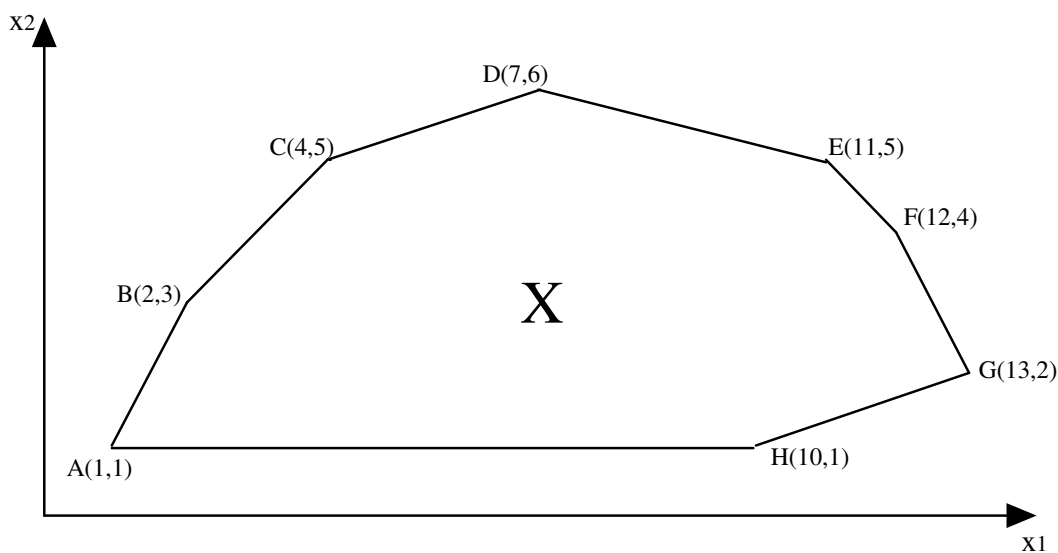


1-



Considere o problema de programação linear com duas funções objectivo:

$$\max f_1(\underline{x}) = x_1$$

$$\max f_2(\underline{x}) = x_2$$

$$\text{s. a } \underline{x} \in X$$

(a) Represente a região admissível no espaço das funções objectivo, identificando a região (estritamente) não dominada e a solução ideal.

(b) Qual a solução não dominada que minimiza a distância (de métrica L_1) à solução ideal ?

(c) Formule o problema a resolver para obter a solução não dominada que minimiza a distância (de métrica L_∞) à solução ideal.

(d) Represente (qualitativamente) a decomposição do espaço dos pesos (incluindo todas as regiões de indiferença).

2- Resolva as alíneas do problema 1., considerando o problema de programação linear com duas funções objectivo:

$$\max f_1(\underline{x}) = 2x_1 + x_2$$

$$\min f_2(\underline{x}) = 2x_1 - 2x_2$$

$$\text{s. a } \underline{x} \in X$$

Qual a modificação a introduzir na formulação do problema em (c) se o ponto de referência for $\underline{z} = (20,10)$ e não a solução ideal?

3- Considere o problema de programação linear com duas funções objectivo (região admissível do prob. 1):

$$\mathbf{max} \ f_1(\underline{x}) = x_1 + x_2$$

$$\mathbf{min} \ f_2(\underline{x}) = 4 x_2$$

$$\text{s. a } \underline{x} \in X$$

(a) Represente a região admissível no espaço das funções objectivo, identificando as soluções não dominadas (estritamente e fracamente) e a solução ideal.

(b) Formule o problema para calcular a solução não dominada que minimiza a distância de métrica L_1 à solução ideal. Calcule (graficamente) essa solução.

(c) Formule o problema para calcular a solução não dominada que minimiza a distância de métrica L_∞ ao ponto de referência $\underline{z}=(f_1(\underline{x}), f_2(\underline{x}))=(14,20)$.

(d) Formule o problema para calcular a solução inicial pelo método STEM. Indique uma possível solução para esse problema. Formule o problema a resolver na iteração seguinte do STEM se o decisor resolver relaxar $f_2(\underline{x})$ de 4 unidades em relação à solução anterior. Qual a solução óptima deste problema?

(e) Para o problema com três funções objectivo

$$\mathbf{max} \ f_1(\underline{x}) = x_1 + x_2$$

$$\mathbf{min} \ f_2(\underline{x}) = 4 x_2$$

$$\mathbf{max} \ f_3(\underline{x}) = x_1$$

$$\text{s. a } \underline{x} \in X$$

represente (qualitativamente) a decomposição do espaço dos pesos (incluindo todas as regiões de indiferença).

4- Considere o problema

$$\text{“Max” } \underline{f}(\underline{x}) = [f_1(x_1, x_2), f_2(x_1, x_2)]$$

$$\text{com } f_1(x_1, x_2) = 5 x_1 - 2 x_2$$

$$f_2(x_1, x_2) = - x_1 + 4 x_2$$

$$\text{sujeito a } - x_1 + x_2 \leq 3 \qquad x_1 + x_2 \leq 8$$

$$x_1 \leq 6 \qquad x_2 \leq 4$$

$$x_1, x_2 \geq 0$$

(a) Represente o espaço de decisão e o espaço dos objectivos, assinalando em ambos a região não dominada.

(b) Construa a tabela de óptimos individuais (de “pay-off”) e identifique a solução ideal.

(c) Formule o problema para determinar a solução admissível que minimiza a distância à solução ideal, de acordo com a métrica L_∞ .

(d) Qual a solução admissível que minimiza a distância à solução ideal, de acordo com a métrica L_1 ?

5- Considere o problema

$$\begin{aligned} \max \quad & f_1(x_1, x_2) = -x_1 + 3x_2 \\ \max \quad & f_2(x_1, x_2) = 3x_1 + 3x_2 \\ \max \quad & f_3(x_1, x_2) = x_1 + 2x_2 \\ \text{s. a} \quad & x_2 \leq 4 \\ & x_1 + 2x_2 \leq 10 \\ & 2x_1 + x_2 \leq 10 \\ & x_1, x_2 \geq 0 \end{aligned}$$

- (a) Represente o espaço de decisão e os gradientes das funções objectivo.
 (b) Determine as regiões de indiferença no espaço dos pesos correspondentes às soluções não dominadas que optimizam cada uma das funções objectivo individualmente.
 (c) Construa a tabela de óptimos individuais (de “pay-off”) e identifique a solução ideal.

6- Considere o problema

$$\begin{aligned} \max \quad & f_1(\underline{x}) = -x_1 + 4x_2 \\ \max \quad & f_2(\underline{x}) = 3x_1 - x_2 \\ \text{s. a} \quad & -x_1 + x_2 \leq 6 \quad \quad \quad x_1 + x_2 \leq 10 \\ & x_1 \leq 8 \quad \quad \quad x_2 \leq 7 \\ & x_1, x_2 \geq 0 \end{aligned}$$

- (a) Represente o espaço de decisão e o espaço dos objectivos, assinalando em ambos a região não dominada.
 (b) Construa a tabela de óptimos individuais (de “pay-off”) e identifique a solução ideal.
 (c) Formule o problema para determinar a primeira solução de compromisso, de acordo com o método STEM.
 (d) Se a solução do problema em (c) for $(x_1, x_2) = (5.46, 4.54)$ formule o problema para achar a segunda solução gerada pelo STEM, se o decisor resolver relaxar f_1 de 2. Ilustre graficamente a redução da região admissível no espaço de decisão e no espaço dos objectivos. Qual é a solução apresentada pelo STEM ?

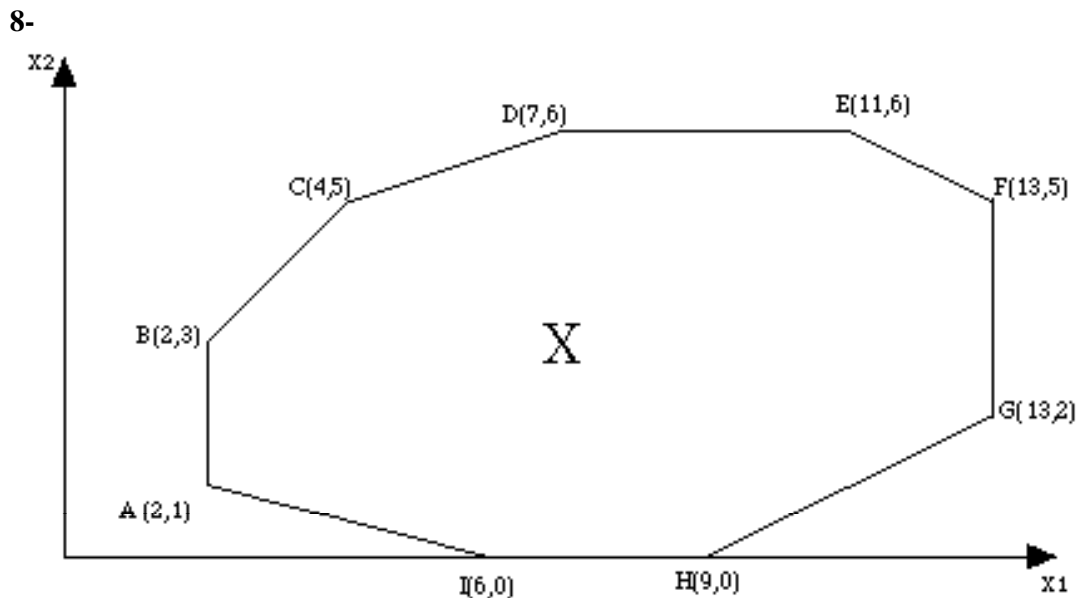
7- Numa fábrica existem 2 tipos de máquinas, integradas nas linhas de produção de 4 produtos. As capacidades disponíveis de cada tipo de máquina (expressas em máquina. horas/semana) e o número de horas/semana requeridos em cada máquina por cada um dos 4 produtos são dados na tabela :

Tipo de máquina	P1	P2	P3	P4	Disponibilidade
A	2	1	4	3	60
B	3	4	1	2	60

A direcção da empresa está empenhada em maximizar o lucro, a qualidade de produção e o grau de satisfação dos trabalhadores. Estudos recentes permitiram estabelecer os coeficientes por unidade de cada produto destes objectivos:

	P1	P2	P3	P4
Lucro	3	1	2	1
Qualidade	1	-1	2	4
Satisfação laboral	-1	5	1	2

- (a) Formule o problema como um de programação linear multiobjetivo.
- (b) Calcule a região de indiferença correspondente à solução não dominada que otimiza o lucro.
- (c) Para esta solução quais são as variáveis não básicas eficientes ?
- (d) Alguma das soluções não dominadas que se obtêm introduzindo na base estas variáveis é óptima em relação à qualidade ou à satisfação laboral?
- (e) Formule o problema para obter a solução não dominada inicial pelo método STEM.
- (f) Se a solução obtida resolvendo este problema for $(f_1(\underline{x}), f_2(\underline{x}), f_3(\underline{x})) = (35.234, 55.754, 45.537)$ formule o problema a resolver na iteração seguinte do STEM se o decisor resolver relaxar $f_2(\underline{x})$ de 10 ?



Considere o problema de programação linear com duas funções objectivo:

$$\min z_1(\underline{x}) = x_1 - x_2$$

$$\max z_2(\underline{x}) = x_1$$

$$\text{s. a } \underline{x} \in X$$

- (a) Represente a região admissível no espaço das funções objectivo, identificando a região não dominada (estrita e fracamente) e a solução ideal.
- (b) Formule o problema para calcular a solução não dominada que minimiza a distância de métrica L_1 à solução ideal. Calcule (graficamente) essa solução.
- (c) Formule o problema a resolver para obter a solução não dominada que minimiza a distância (de métrica L_∞) ao ponto de referência $\underline{z} = (z_1, z_2) = (5, 8)$.
- (d) Represente (qualitativamente) a decomposição do espaço dos pesos (incluindo todas as regiões de indiferença).

(e) Para o problema com três funções objectivo

$$\min z_1(\underline{x}) = x_1 - x_2$$

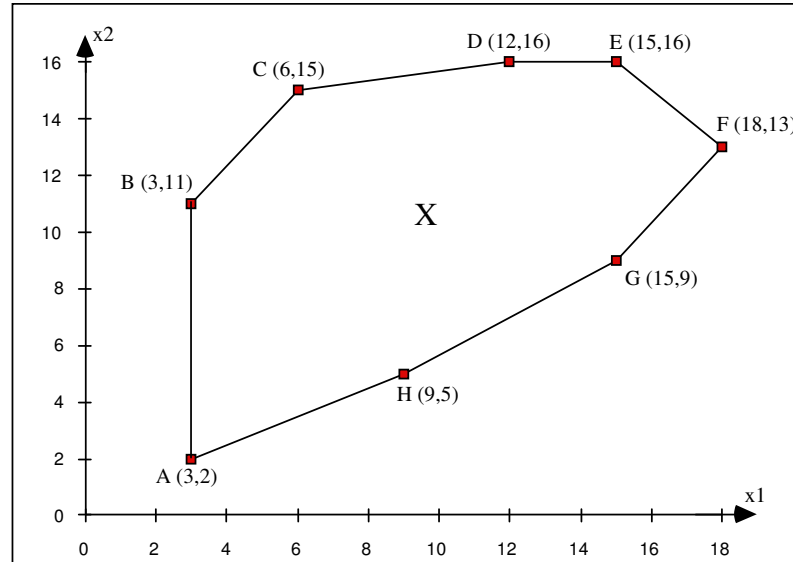
$$\max z_2(\underline{x}) = x_1$$

$$\max z_3(\underline{x}) = -x_1 + 3x_2$$

$$\text{s. a } \underline{x} \in X$$

represente (qualitativamente) a decomposição do espaço dos pesos (incluindo todas as regiões de indiferença).

9 -



Considere o problema de programação linear com duas funções objectivo:

$$\min f_1(\underline{x}) = x_1$$

$$\max f_2(\underline{x}) = x_2$$

$$\text{s. a } \underline{x} \in X$$

(a) Identifique as soluções não dominadas (estritamente e fracamente) e a solução ideal.

(b) Considere o problema escalar

$$\min t$$

$$\text{s. a } x_1 - t \leq 6$$

$$x_2 + t \geq 15$$

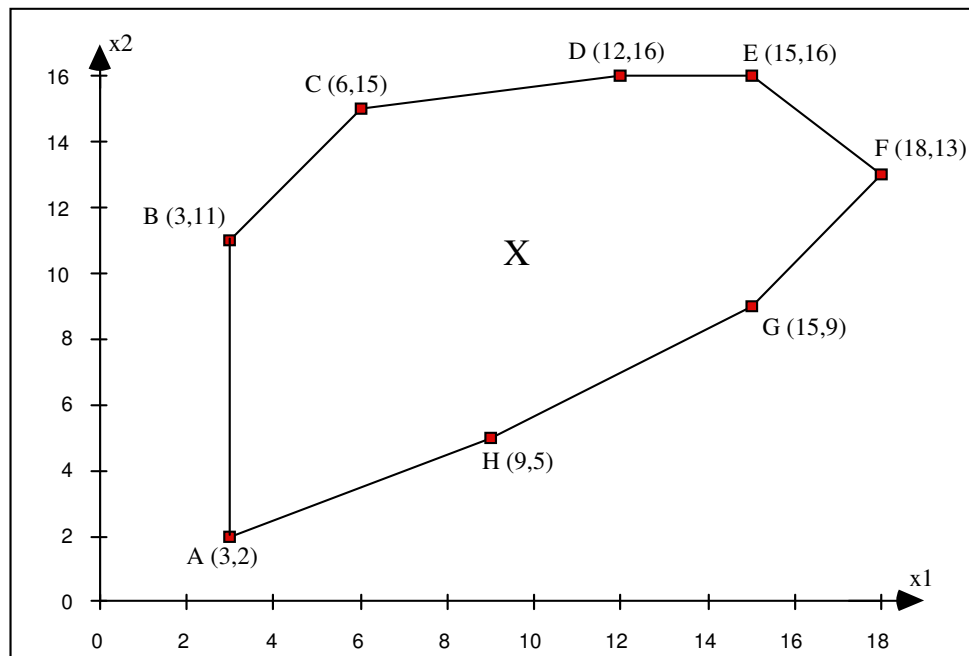
$$t \geq 0, \underline{x} \in X$$

i) A que se destina este problema auxiliar ? Qual a respectiva solução óptima ?

ii) Esta solução é não dominada do problema multiobjectivo ? Em caso negativo que modificações deve efectuar no problema escalar para garantir que a respectiva solução óptima seja não dominada do problema multiobjectivo ?

(c) Formule o problema para calcular a solução inicial pelo método STEM. Indique uma possível solução para esse problema. Formule o problema a resolver na iteração seguinte do STEM se o decisor resolver relaxar $f_1(\underline{x})$ de 2 unidades em relação à solução anterior. Qual a solução óptima deste problema?

10-



Considere o problema de programação linear com duas funções objectivo:

$$\min z_1 = 4x_1 - 3x_2$$

$$\max z_2 = x_1 + x_2$$

$$\text{s. a } \underline{x} \in X$$

(a) Represente a região admissível no espaço das funções objectivo, identificando a região não dominada (estrita e fracamente) e a solução ideal.

(b) Represente (qualitativamente) a decomposição do espaço dos pesos (incluindo todas as regiões de indiferença).

(c) Formule o problema a resolver na iteração inicial do método STEM. Indique uma possível solução para este problema que não seja um vértice.

(d) Qual o problema a resolver na iteração seguinte do STEM se o decisor relaxar z_1 de 4? Qual a solução óptima deste problema?

(e) Para o problema com três funções objectivo represente (qualitativamente) a decomposição do espaço dos pesos (incluindo todas as regiões de indiferença):

$$\min z_1 = 4x_1 - 3x_2$$

$$\max z_2 = x_1 + x_2$$

$$\max z_3 = x_2$$

$$\text{s. a } \underline{x} \in X$$